



Prénom & Nom :


Date :

je me réentraîne T1


La table par 2

① COLORIE les cases pour obtenir le résultat.


$2 \times 4 = 8$



$2 \times 7 = 14$



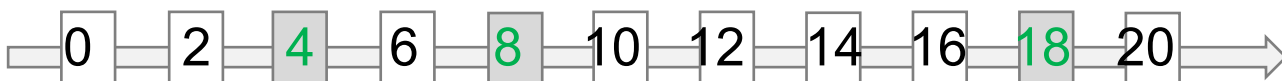
$2 \times 9 = 18$



② CALCULE.

$$\begin{array}{cccccc} 0 \times 2 = 0 & 1 \times 2 = 2 & 2 \times 2 = 4 & 3 \times 2 = 6 & 4 \times 2 = 8 & 5 \times 2 = 10 \\ 6 \times 2 = 12 & 7 \times 2 = 14 & 8 \times 2 = 16 & 9 \times 2 = 18 & 10 \times 2 = 20 \end{array}$$

③ COMPLETE les cases grisées.





④ ECRIS la réponse.

Au zoo, il y a 9 autruches.

Combien y-a-t-il de pattes en tout ?

Il y a 18 pattes.



Nous avons 5 nouveaux petits poussins.

Combien y-a-t-il de pattes en tout ?

Il y a 10 pattes.

J'ai 7 pièces de 2€ dans ma tirelire.

Cela fait 14 €

